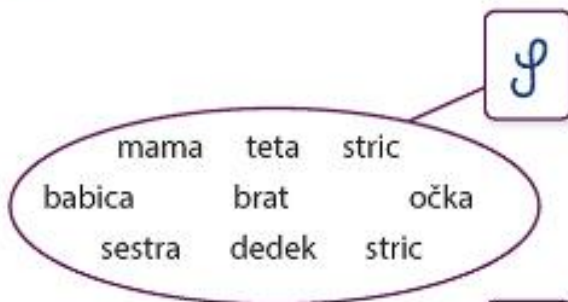


Četrtek, 9. 4. 2020

Predmet	Vsebina
SLJ	<p style="text-align: center;">OPIS ŽIVALI – UTRJEVANJE ZNANJA</p> <p>➤ Opis živali – Srna</p> <ul style="list-style-type: none">- Preberem si miselni vzorec v prilogi 2.- Podatke iz miselnega vzorca pretvorim v besedilo. <p>Upoštevam pravila pisanja zaokroženega besedila: pravopisna pravila (ločila, velika začetnica), vrstni red besed v povedi, oblika besedila (odstavki), čitljiv zapis.</p> <ul style="list-style-type: none">- Ko besedilo napišem, ga natančno preberem in popravim napake.- Besedilo posredujem učiteljici v pregled do torika, 14. aprila.
Dodatna naloga:	
- Rešim interaktivno nalogo: Poljski zajec https://uciteljska.net/kvizi/Poljski_zajec/Poljski_zajec.htm	
MAT	<p style="text-align: center;">MNOŽICE – UTRJEVANJE</p> <p>➤ Preverim rešitve 4.-7. naloge s prilogo 1.</p> <ul style="list-style-type: none">- Učiteljici sporočim, pri katerih nalogah so se pojavile težave. <p>➤ Utrjevanje znanja</p> <ul style="list-style-type: none">- Izberem tri naloge iz poglavja Brez muje se še čevelj ne obuže in jih rešim v zvezek.- V zvezek napišem naslov MNOŽICA. <p>Prerišem narisani množici in ju čimbolj podrobno opišem (število elementov, je/ni element množice, podmnožica).</p> <div style="text-align: center;"><p>The diagram shows two overlapping sets, A and B. Set A is a large oval containing the letters V, K, N, L, M, R, S, and Z. Set B is a smaller oval containing the letters Š and Ž. The intersection of A and B contains the letters Š and Ž.</p></div> <p>Pomoč: Ali je črka N element množice A? So v množici A črke, ki so šumniki? Koliko elementov je v množici A in v podmnožici B?</p> <p>➤ Preverim načrt hitrega računanja (Ali sledim napotku, da vsaj trikrat v tednu opravim »training hitrega računanja«?)</p> <ul style="list-style-type: none">- Rešim nalogo Minuta za poštevanko (SDZ, str. 138) in si jo preverim.
Dodatna naloga: Rešim nalogo Kdor spi, rib ne ulovi (SDZ, str. 138).	

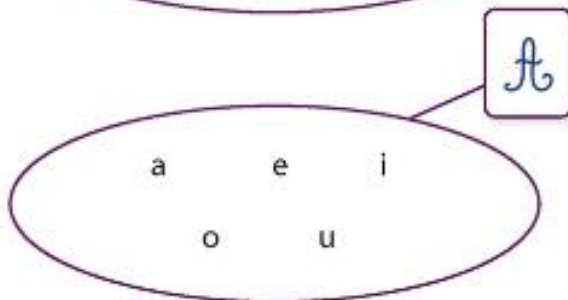
LUM	<p style="text-align: center;">VELIKONOČNA DEKORACIJA</p> <p>➤ Ustvarim velikonočno dekoracijo po svojem izboru s pomočjo materiala, ki ga imam doma.</p> <p>- Predlogi (priloga):</p> <p>http://krokotak.com/</p> <p>https://www.youtube.com/watch?v=6JKIsGP9qqQ</p> <p>https://www.youtube.com/results?sp=mAEB&search_query=easter+craft</p> <p>https://www.youtube.com/watch?v=lmwmCeaVmz4</p> <p>ALI</p> <p>➤ Sodelujem pri domačih pripravah na praznične dni:</p> <p>- pečem piškote, pogačo, potico ...</p> <p>- okrasim praznično mizo ...</p>
DDP	<p style="text-align: center;">OPIS ŽIVALI – UTRJEVANJE ZNANJA</p> <p>➤ Prisluhnem posnetku Priden kot mravlja</p> <p>https://radioprvi.rtvsllo.si/2016/04/dobro-jutro-otroci-191/</p> <p>- Izdelam miselni vzorec: Opis mravlje</p> <p>ALI</p> <p>➤ Rešim interaktivno nalogo: Opis psa</p> <p>https://uciteljska.net/kvizi/HotPot/Kodrasti_bisoni/Kodrasti_bisoni.htm</p>

4. Označi in opiši množici. Matematično ju zapiši.



$\mathcal{J} = \{\text{mama, teta, stric, babica, brat, dedek, očka, stric, sestra}\}$

Opis: množica sorodnikov



$\mathcal{A} = \{a, e, i, o, u\}$

Opis: množica samoglasnikov

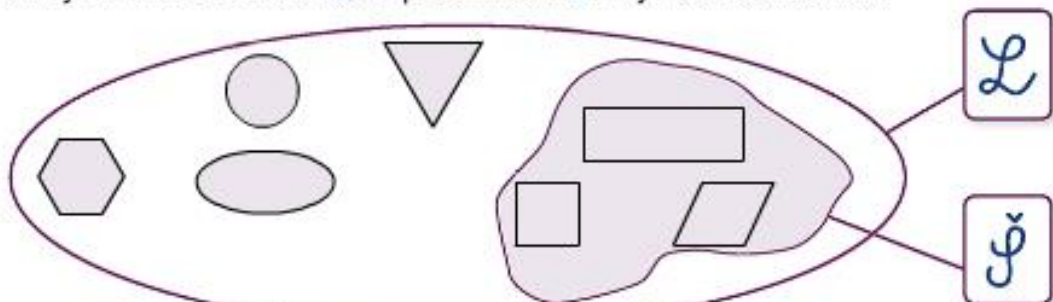
5. Oglej si množico rek \mathcal{R} in vstavi \in ali \notin .



Sava $\in \mathcal{R}$	Ljubljana $\in \mathcal{R}$
Vrhnika $\in \mathcal{R}$	Mura $\in \mathcal{R}$
Soča $\in \mathcal{R}$	Bled $\in \mathcal{R}$
Lendava $\in \mathcal{R}$	Koper $\in \mathcal{R}$
Kolpa $\in \mathcal{R}$	Kokra $\in \mathcal{R}$

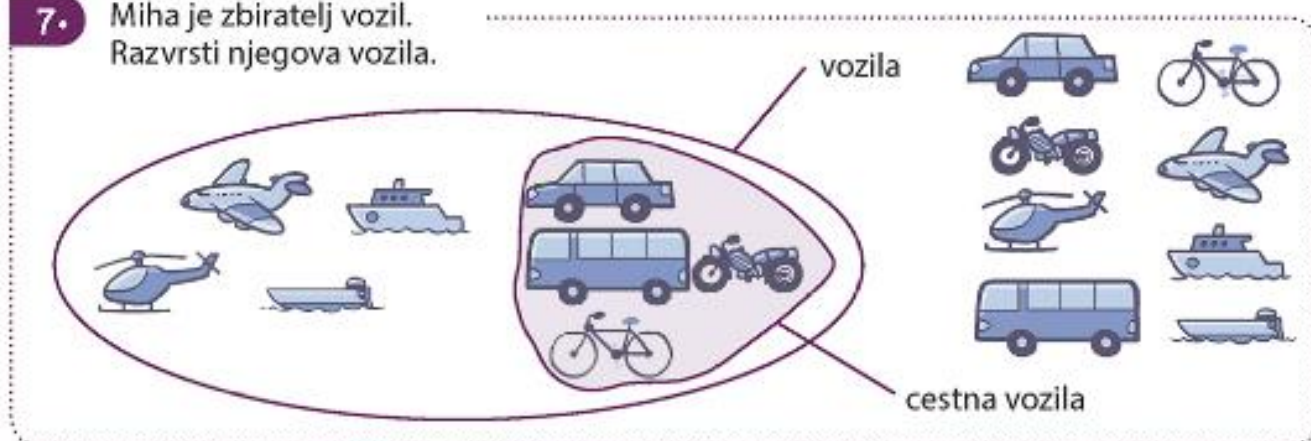
6. Dani so geometrijski liki.

Preriši jih v množico likov \mathcal{L} . V podmnožici \mathcal{J} naj bodo štirikotniki.



7.

Miha je zbiratelj vozil.
Razvrsti njegova vozila.



Minuta za poštevanko

.	5	8	4	0	7
9	45	72	36	0	63
1	5	8	4	0	7
3	15	24	12	0	21
7	35	56	28	0	49
6	30	48	24	0	42
2	10	16	8	0	14

Priloga 2: Miselni vzorec – opis živali



Primer zapisa v zvezek (jezik)

Opis srne

Srna spada v družino jelenov.

Prebiva v gozdovih z gosto podrastjo, na jasah in travnikih, na barju in poljih.

Njena telesna dolžina je od 95 do 135 centimetrov. Plečna višina srne je od 65 do 80 centimetrov.

Dlaka je kratka ...

Hrani se z ...

Samica skoti ...

Njega glavna plenilca sta ...

Priloga 3: Dekoracija – velikonočno jajce

