

MAT ZA 1. R

1. URA: ODŠTEVAM – SDZ 67, 68

- a) OGLEJ SI SLIČICE BESEDILNE NALOGE NA STRANI 67. GLASNO PREBERI RAČUN ODŠTEVANJA(KOLIKO BALONOV JE BILO PREJ IN KOLIKO BALONOV JE BILO POTEM).

1. NAPIŠI RAČUN IN ODŠTEJ.

V KOŠARI SO BILE 4 MAČKE. ODŠLA JE 1 MAČKA. KOLIKO MAČK JE OSTALO V KOŠARI?



- =

NA STREHI JE SEDELO 5 GOLOBOV. ODLETELA STA 2 GOLOBA. KOLIKO GOLOBOV JE OSTALO NA STREHI?



- =

- b) **NAPIŠI RAČUNE** PRI BESEDILNIH NALOGAH IN IZRAČUNAJ.
c) REŠI ŠE 2 . IN 3. NALOGO V SDZ NA STRANI 68.

2. URA: ODŠTEVAM – SDZ 69

- a) 4. NALOGA: **NARIŠI** KROGE KOT KAŽE PRIMER

 $3 - 2 = 1$

- b) RAČUNE 5. NALOGE **PREPIŠI V ZVEZEK** IN IZRAČUNAJ.
c) SEŠTEJ RAČUNE PRI PONOVIH IN JIH NATO **PREPIŠI V ZVEZEK.**

SEŠTEJ. PONOVIH


$3 + 2 = \square$	$1 + 4 = \square$
$4 + 1 = \square$	$2 + 3 = \square$
$1 + 1 = \square$	$2 + 1 = \square$
$2 + 2 = \square$	$1 + 3 = \square$

66

3. URA: PONOVI MO – INTERAKTIVNE VAJE

NA SPLETNI STRANI : https://interaktivne-vaje.si/02_osnova/predmeti_meni/matematika_meni_1_5.html

(KAKO PRIDEM DO REŠEVANJA NALOG: MAT OD 1. DO 5. R- INTERAKTIVNE VAJE, RAČUNAM DO 5, ODŠTEVANJE DO 5)

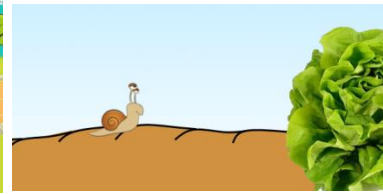


ODŠTEVAM DO 5



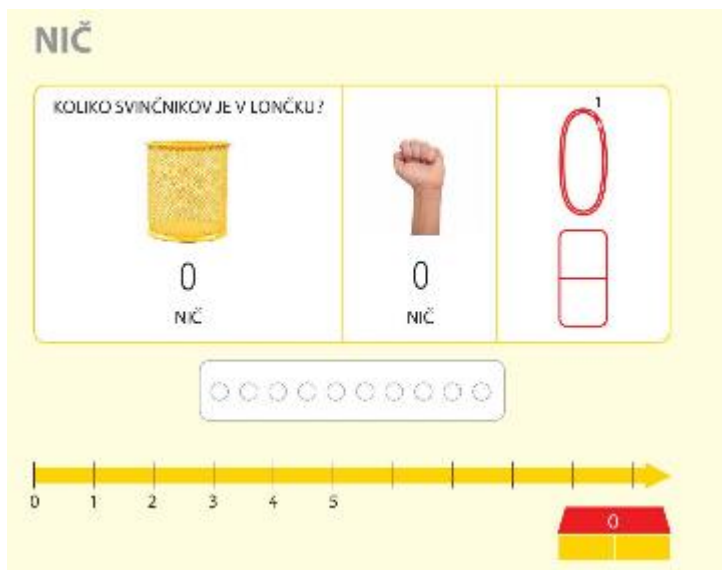
KONJSKA DIRKA-

ODŠTEVAM DO 5

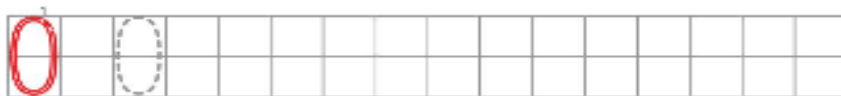


POLŽEK JE LAČEN

4. NIČ – ŠTEVILO IN ŠTEVILKA – SDZ 70, 71



- a) ŠTEVILO 0 JE PRIKAZANO NA RAZLIČNE NAČINE (Z ROKO, S ŠTEVILKO, Z DESETIČKOM, NA ŠTEVILSKI PREMICI).
- b) REŠI 1. NALOGO V SDZ NA STRANI 71. VADI ZAPIS ŠTEVILA 0.



- c) PRI 3. NALOGI NARIŠI TOLIKO ŠTEVILO JABOLK KOT JE ŠTEVILKA IN SEŠTEJ.



- d) V ZVEZEK NAPIŠI NASLOV: **NIČ**
V DVEH VRSTICAH **VADI** ZAPIS ŠTEVILA NIČ.