

Tedenska navodila za delo

- ❑ *Preberite besedilo v učbeniku na straneh 20-25.*
 - ❑ *Oblikujte si zapis v zvezek (lahko tudi prilepite) in odgovorite na vprašanja, ki so med tekstom in na koncu tega dokumenta.*
 - ❑ *Naloge rešite do konca tedna, dokumentirajte in mi pošljite na mail.*
 - ❑ *V sredo se srečamo na Zoom konferenci od 9.30-10.30.*
-

Srednja Evropa

U 22, 23



□ *Tekst U 22 (Srednja Evropa)*

□ **Države srednje Evrope:**

- Nemčija
- Švica
- Liechtenstein
- Češka
- Poljska
- Avstrija
- Slovenija
- Slovaška
- Madžarska




K državam pripiši glavna mesta



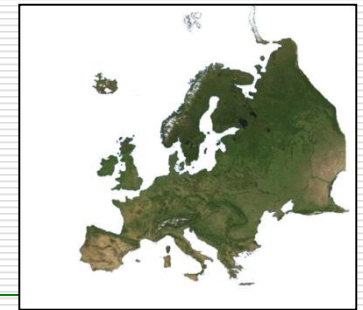
Površje Srednje Evrope

- **Lega:** Od Severnega in Baltskega morja na severu do Jadranskega morja na jugu.
- **Obmorske in celinske države** (v okvir zapiši katere so obmorske in katere celinske države srednje Evrope)



- **Površje:**

- gorstva (Alpe in Karpati),
- nižine (Panonska nižina in Nemško-Poljsko nižavje),
- Evropsko sredogorje.



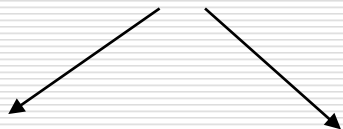
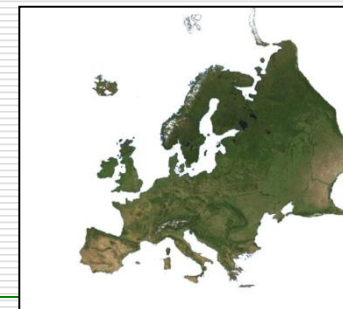
Podnebje

- ❑ Lega v zmernotoplem pasu.
 - ❑ Večji del **CELINSKO** podnebje (*U 22 klimogram*).
- Zapiši značilnosti celinskega podnebja (pomagaj si z učbenikom).*
- ❑ Nemško-Poljsko nižavje - oceansko podnebje.
 - ❑ Alpe, Karpati – gorsko podnebje.

Prebivalstvo

- ❑ gosta poselitev,
 - ❑ Z- Germani, V-Slovani
-

Srednjeevropsko gospodarstvo



**Razvite
postindustrijske
zahodne države**

**(Med
najrazvitejšimi na
svetu)**

**Razvijajoče
vzhodne države
(posledice
socialistične
preteklosti)**

Kateri naravni in družbeni pojavi vplivajo
na gostoto poselitve ?

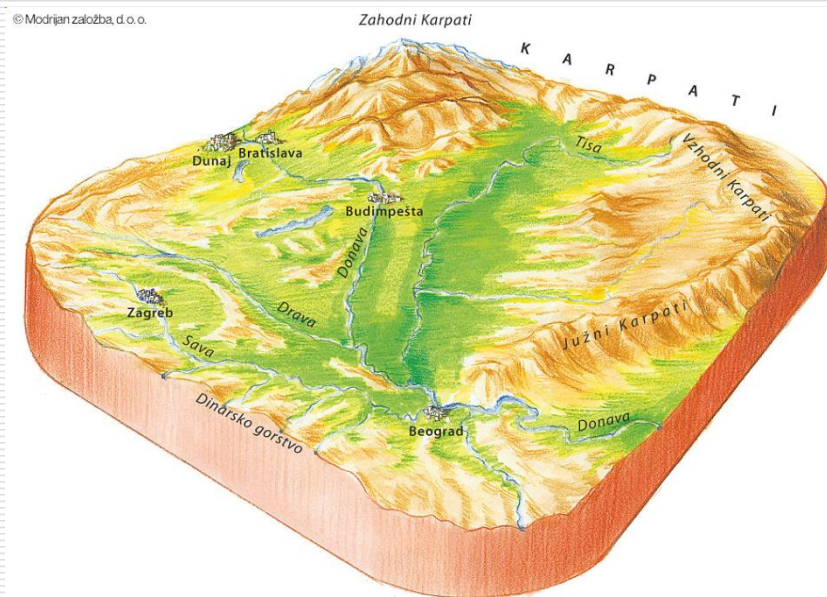
Panonska nižina

U 24, 25



□ Lega Panonske nižine

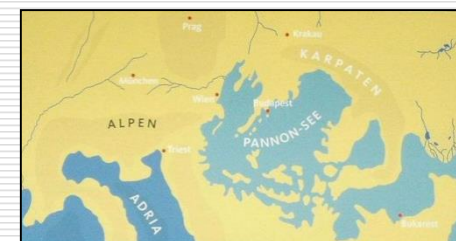
- Jugovzhodni del Srednje Evrope.
- Ob njenem obrobju so Alpe, Dinaridi in Karpati.
- Večji del na Madžarskem, sega tudi v Slovenijo, Avstrijo in Slovaško.
- *Iz karte razberi v katere države poleg srednjeevropskih sega panonska nižina?*



Nastanek Panonske nižine



- Pred nastankom Karpatov in Alp udornina zalita z morjem.
- Po umiku morja so nastale vetrne usedline (**publica**) na katerih se je razvila rodovitna prst (**črnica**).
- Površje je v večini ravno s posameznimi osamelci, na obrobju gričevje.



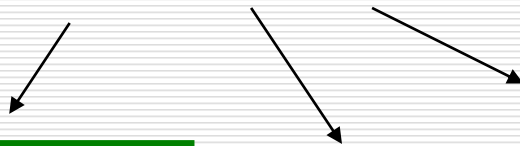


Podnebje in rastlinstvo

- Celinsko podnebje (mrzle zime, vroča poletja).
- Rastlinstvo: Stepa, gozd ob rekah in hribovjih.

Gospodarstvo

- Dobri pogoji za kmetijstvo



**Pšenica, koruza,
industrijske
rastline (sončnice,
sladkorna pesa...)**

**Govedoreja,
perutninarstvo,
prašičereja.**

**Sadjarstvo in
vinogradništvo**



- Turizem (ob toplih vrelcih).



Vpliv Donave



- ❑ Pogoste poplave,
- ❑ prekopi omogočajo plovbo,
- ❑ prekop **Ren-Majna-Donava** (povezava Črnega morja z Severnim morjem) A
- ❑ Onesnaženost rek zaradi goste poselitve in gospodarstva.



-
- Razmisli in odgovori na vprašanja:
 1. S katerimi problemi se srečujejo ljudje, ki živijo ob rekah? Kako rešujejo te probleme?
 2. Čemu so namenjene industrijske rastline?
 3. Zapiši, v katerih srednjeevropskih državah si že bil.
-